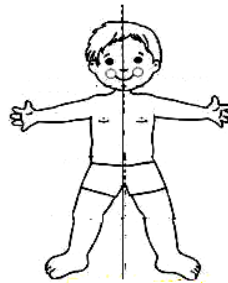
	INSTITUCIÓN EDUCATIVA LA PRESENTACIÓN					
	NOMBRE ALUMNA:					
	ÁREA / ASIGNATURA: Ciencias Sociales					
	DOCENTE: Claudia Patricia Rivera Guerra					
	PERIODO	TIPO GUÍA	GRADO	Nº	FECHA	DURACIÓN
2	Conducta de entrada	3º	3	Mayo	3 unidades	

LA ORIENTACION ESPACIAL

Todo cuanto se observa ocupa un lugar en el espacio. Las distintas formas de la superficie terrestre (continentes, océanos, montañas...) tienen una ubicación que se define por su relación con otros elementos de la tierra.

Las personas también ocupamos un lugar en el espacio, nos desplazamos y nos distribuimos por este espacio. El cuerpo humano ocupa un lugar en el espacio y tiene un diseño muy particular. Si se traza un eje o línea vertical por el centro, se descubre su simetría, ósea dos partes que reflejan la una en la otra como en un espejo. Así se identifica la izquierda y la derecha.



La posición de un elemento con respecto a otros se define por sus relaciones espaciales. Para ello se utilizan expresiones: arriba, abajo, al lado, en medio, en frente, atrás, dentro, fuera, cerca, lejos, a la derecha y a la izquierda.

Observa la siguiente imagen y completan la oración con una expresión de relaciones espaciales:

- El árbol esta _____ de las ardillas
- El pájaro esta _____ del árbol
- La niña esta _____ de la casa
- El perro esta _____ del niño
- La casa esta _____ del árbol
- Los hongos están _____ del árbol



PUNTOS DE REFERENCIA

Una persona, un objeto o un atributo del paisaje sirven como puntos de referencia cuando se utilizan para identificar la posición de un elemento en el espacio. Un faro es el punto de referencia para llegar a la playa; una torre de control es el punto de referencia del aeropuerto.

El Croquis: Dibujando con la Memoria

Un croquis es un diseño informal, sin mucha precisión ni detalles.

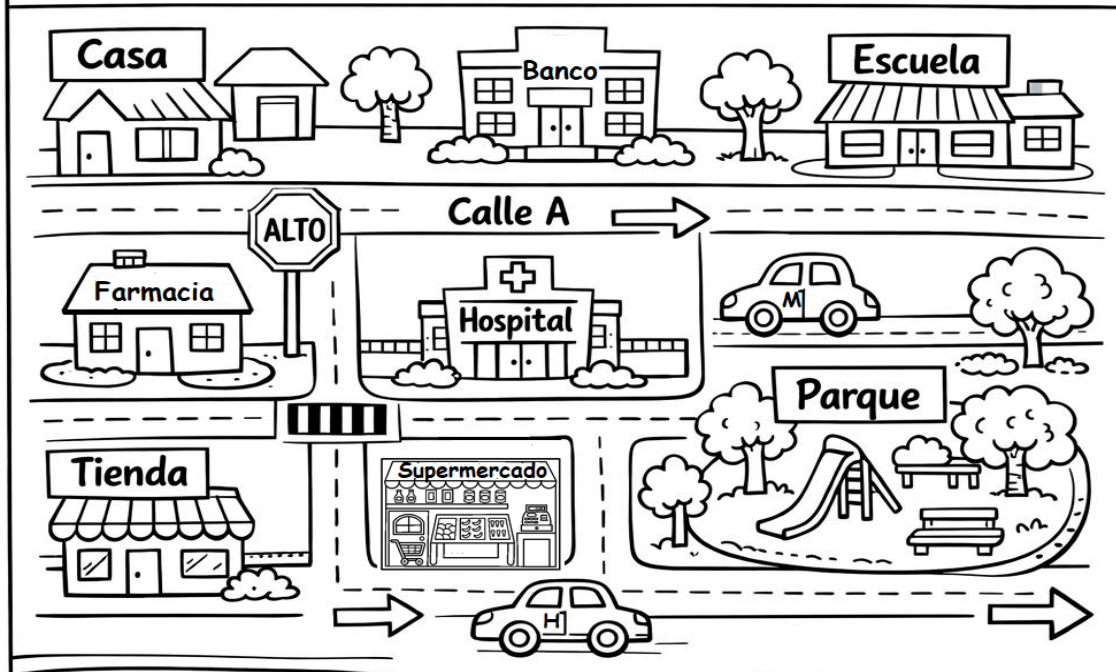
- Se dibuja como si viéramos el lugar desde arriba.
- No usa medidas exactas ni instrumentos geométricos.
- Utiliza nuestra memoria y puntos de referencia (como la tienda de la esquina o el árbol grande).



El croquis

¿Cómo ubicar lugares fácilmente?

Observa el croquis, identifica los lugares y colorea el dibujo.



Segun el croquis responde

Escribe el nombre de 2 lugares que esten sobre la calle A _____

El banco se encuentra _____


Que debo hacer para ir del hospital a la farmacia _____

El carro H esta al frente de que _____

LOS PUNTOS CARDINALES

El Sol es un punto de referencia externo al planeta que sirve para orientarnos y entender la idea de lo que son puntos cardinales. Tu brazo derecho extendido en dirección de la salida del Sol señala el

Oriente o Este y tu brazo izquierdo indica el punto opuesto, es decir, el Occidente u Oeste. Así mismo, frente a ti está el Norte y a tu espalda, el Sur.



CLAVES PARA LA ORIENTACION

Orientarse es una habilidad que se debe desarrollar

- Nuestro entorno no es simétrico, es decir, no es posible trazar un eje que muestre los mismos elementos y formas de un lado y de otro, desde un punto de observación.
- Los elementos de la naturaleza y los creados por los seres humanos poseen varias características o atributos, a partir de los cuales se establecen relaciones.
- Algunos elementos del entorno sirven como puntos de referencia.
- Los puntos cardinales ayudan a precisar la posición geográfica de un lugar o de sus componentes

ORIENTACION EN EL MAPA

Para representar espacios geográficos utilizamos los mapas, que son dibujos que sirven para representar las características de espacios geográficos extensos como departamentos, países, continentes y toda la tierra.

Los mapas son herramientas de orientación que definen gráficamente la posición de los lugares que representan.



Lo primero que debemos de hacer para interpretar un mapa es identificar los puntos cardinales: para esto se debe observar el símbolo de la rosa de los vientos, que muestra la posición de los puntos cardinales.

Observa la rosa de los vientos, que te da los puntos cardinales del mapa de Colombia. Luego escribe cada país u océano cuál punto cardinal le queda.



Océano Atlántico esta al		De Colombia
Perú está al		De Colombia
Venezuela está al		De Colombia
Océano Pacífico esta al		De Colombia

EL ÚNICO FUTURO QUE TENEMOS ES EL PRESENTE



Derecha

Izquierda